

Snel meten



Tuin 1
Lengte 10 meter
Breedte 4 meter

Omtrek: meter
Opp: m²

Tuin 2
Lengte 8 meter
Breedte 3 meter

Omtrek: meter
Opp: m²

Tuin 3
Lengte 9 meter
Breedte 9 meter

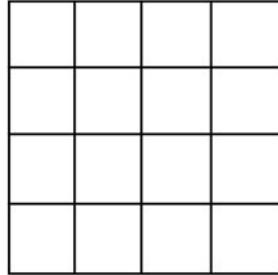
Omtrek: meter
Opp: m²

naam: _____

Tuintjes

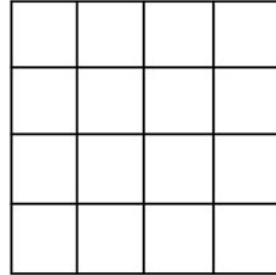


Een tuin van 6 vakjes.



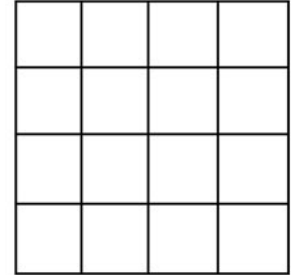
Omtrek:

Een tuin van 8 vakjes.



Omtrek:

Een tuin van 10 vakjes.



Omtrek:

Tuincentrum

In de vrachtwagen zit
4 m³ potgrond.



4 m³ = liter

Alle potgrond gaat
in kruiwagens.



..... kruiwagens

Met 1 kruiwagen vullen
we potjes van 10 cl.




..... potjes

Alle potjes krijgen
5 cl water.



Totaal liter

Zwembad



lengte = 1 m
breedte = 8 m
diepte = 2 m

inhoud = m³
inhoud = liter

lengte = 2 m
breedte = 4 m
diepte = 2 m

inhoud = m³
inhoud = liter

lengte = 2 m
breedte = 3 m
diepte = 1 m

inhoud = m³
inhoud = liter

Twee van de drie



Kleur de omtrek groen
en de oppervlakte rood.

5

6

10



Kleur de omtrek groen
en de oppervlakte rood.

10

12

6



Kleur de omtrek groen
en de oppervlakte rood.

8

12

14



Kleur de omtrek groen
en de oppervlakte rood.

12

6

8