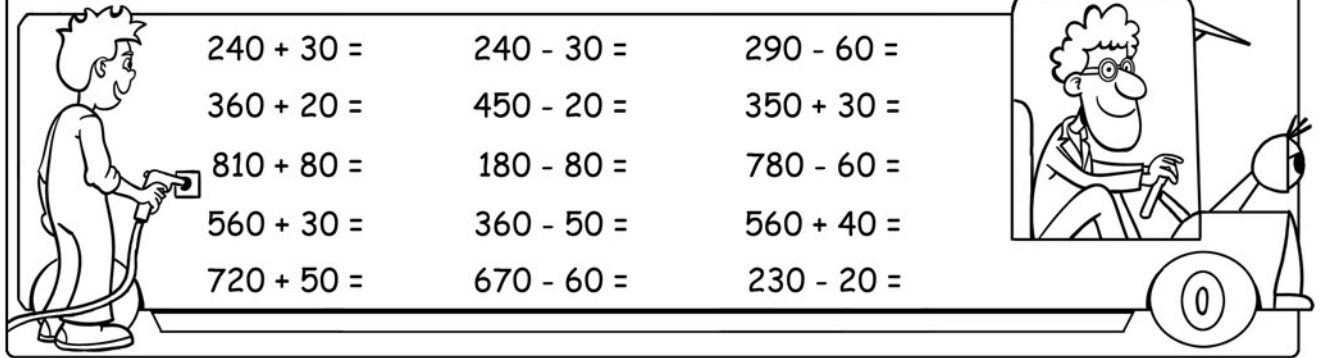


Tanken



$240 + 30 =$ $240 - 30 =$ $290 - 60 =$
 $360 + 20 =$ $450 - 20 =$ $350 + 30 =$
 $810 + 80 =$ $180 - 80 =$ $780 - 60 =$
 $560 + 30 =$ $360 - 50 =$ $560 + 40 =$
 $720 + 50 =$ $670 - 60 =$ $230 - 20 =$

Pretpark

naam:

Vandaag zijn er 400 kinderen in het spookhuis. Gisteren waren er 100 minder. Hoeveel kinderen waren er gisteren?



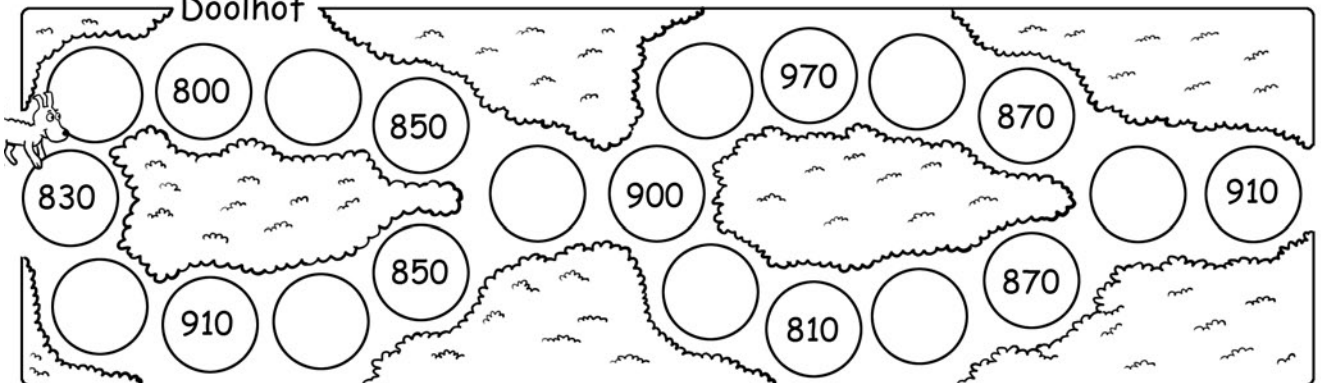
Er zaten gisteren 300 jongens en 400 meisjes in de botsauto's. Hoeveel kinderen zijn dat bij elkaar?



Vorige week is er 300 kilo afval opgeruimd. Dat is 100 kilo meer dan deze week. Hoeveel is het dan deze week?



Doolhof



800 850 970 870
 830 900 910
 910 850 810 870

Dierentuin

Bezoekersaantallen

maand	mannen	vrouwen	kinderen
april	300	200	900
mei	400	400	500
juni	300	100	300
juli	500	100	700
aug	100	200	500
sept	200	500	700
okt	200	200	600



Hoeveel mannen en vrouwen kwamen er samen in mei?

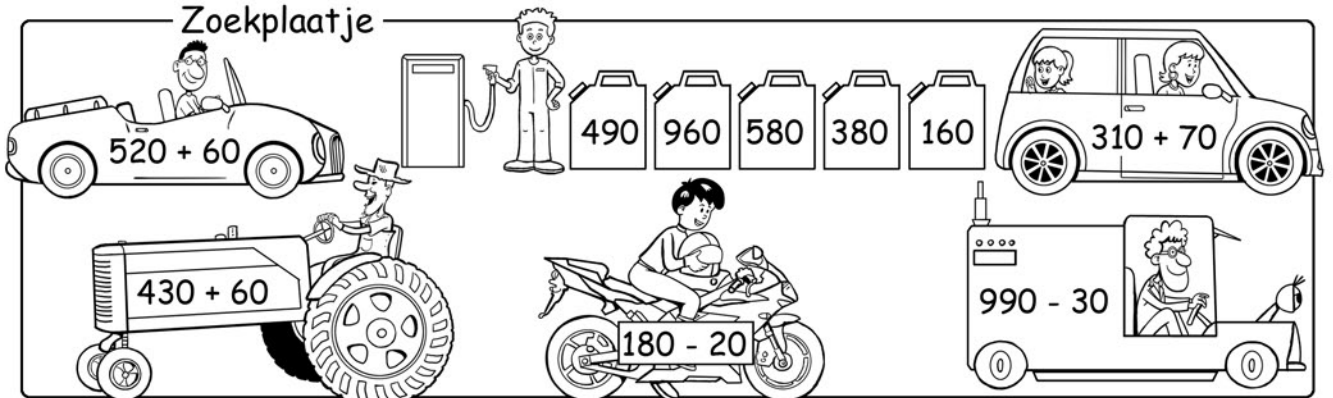
In april kwamen er meer kinderen dan in mei. Hoeveel meer?

Hoeveel bezoekers kwamen er in totaal in de maand oktober?

In welke maand kwamen de meeste kinderen?

In juli kwamen veel meer mannen dan vrouwen. Hoeveel meer?

Zoekplaatje



$520 + 60$ 490 960 580 380 160 $310 + 70$
 $430 + 60$ $180 - 20$ $990 - 30$